
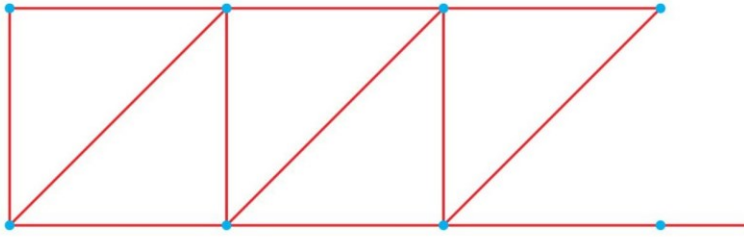



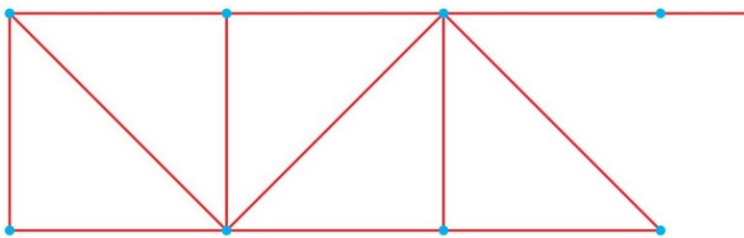
Date : _____

Tracés à la règle

1 Termine la frise.



2 Termine la frise.



Longueurs : la bande unité


Pour les exercices ③ et ④, utilise l'unité orange de ton cahier.



3 Mesure la longueur de chaque bande.



La bande rose mesure unités.



La bande verte mesure unités.

4 La bande bleue mesure 4 unités.
Vrai ou faux ? Entoure.

vrai

faux